

**EXAMEN DE “ECONOMÍA”**  
**CONVOCATORIA ORDINARIA**

**PRIMER CURSO**

**15 DE FEBRERO DE 2008**

**Modelo 1.1**

**APELLIDOS:**

**NOMBRE:**

**GRUPO:**

**LIBRO:**

**NORMAS PARA REALIZAR EL EXAMEN:**

- 1.- No abra este cuadernillo hasta que se le indique.
- 2.- Indique el nombre y el grupo en el encabezado y el NIU y el modelo de examen en la hoja de corrección automática.
- 3.- La prueba no se puede desgrapar.
- 4.- No se corregirán pruebas escritas a lápiz ni a color rojo.
- 5.- Limítese al espacio que se le suministra.
- 6.- Marque en el test la única respuesta correcta en cada pregunta.
- 7.- Dispone de dos horas para realizar el examen.

**PUNTUACIÓN:**


**Sobre un total de 100 puntos:**

- Test : pregunta correcta: 2 puntos; en blanco: 0 puntos; incorrecta: - 0.5 puntos. Será necesario obtener 40 puntos para sumar el resto de las notas.
- La teoría y la práctica puntuarán como máximo, 20 puntos cada parte.


La valoración de la pregunta Voluntaria del libro, se sumará adicionalmente a la obtenida, sirviendo para “ajustar” la nota final.

**TEORIA:**

Determinantes de la pérdida irrecuperable de eficiencia.

A large, empty rectangular box with a thin black border, intended for the student to write their response to the question about the determinants of irretrievable efficiency loss.

Enumerar y definir las principales variables macroeconómicas.

A large, empty rectangular box with a thin black border, intended for the student to list and define the main macroeconomic variables.


## PRÁCTICA

En base a lo estudiado durante el curso comentar las siguientes noticias del diario "El Público" del día 19 de enero de 2008 referidas a las medidas adoptadas por la Administración Americana para combatir la recesión anunciada por los analistas:

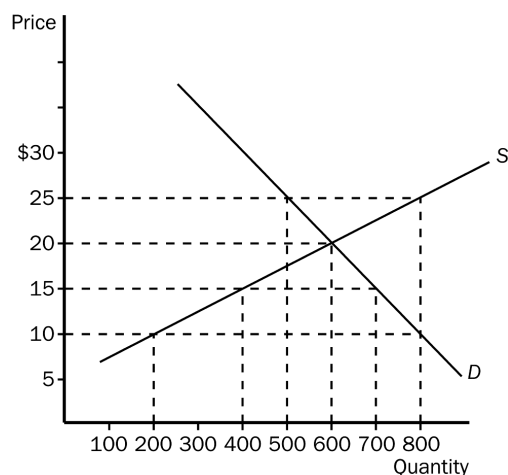
*"El segundo instrumento tradicional para dinamizar una economía en declive es bajar los tipos de interés. Con el dinero más barato, los agentes económicos tienen un incentivo para gastar más. Esto es lo que está haciendo la Reserva Federal de Estados Unidos, que ha rebajado los tipos dos veces en los últimos cuatro meses, hasta el 4.25% y planea hacerlo una vez más en su reunión de final de febrero"*



En el reportaje de Sala i Martín , explicar a través de los índices económicos, las posibilidades de crecimiento en Ghana



1. La palabra "economía" proviene de la palabra griega *oikonomos*, que significa
  - a. "ambiente."
  - b. "producción."
  - c. "el que dirige la casa."
  - d. "el que toma decisiones."
  
2. Un decisor racional actúa solo si
  - a. El beneficio marginal de la acción excede a su coste marginal.
  - b. El coste marginal de la acción excede a su beneficio marginal.
  - c. el coste marginal de la acción es cero.
  - d. el coste de oportunidad de la acción es cero.
  
3. Las leyes que restringen el fumar cigarrillos en lugares públicos son ejemplos de intervenciones gubernamentales dirigidas a reducir
  - a. la influencia de la mano invisible.
  - b. el comercio.
  - c. las externalidades.
  - d. el poder del mercado.
  
4. Un Mercado competitivo es aquel que
  - a. hay un solo vendedor, pero muchos compradores.
  - b. hay muchos vendedores y cada vendedor tiene la posibilidad de determinar el precio del producto.
  - c. hay muchos vendedores que compiten entre ellos para servir a un solo comprador de modo que alguno de ellos se ve obligado a salir del mercado al no resistir la competencia.
  - d. hay muchos compradores y vendedores que tienen un impacto inapreciable en los precios del producto.
  
5. En el Mercado representado en el grafico, el precio de equilibrio y la cantidad de equilibrio respectivamente son
  - a. 15 y 400 €.
  - b. 20 y 600 €.
  - c. 25 y 500 €.
  - d. 25 y 800 €.



6. . Una reducción de la oferta causará un menor incremento en el precio cuando
  - a. oferta y demanda sean inelásticas.
  - b. la demanda sea elástica y la oferta inelástica.
  - c. cuando oferta y demanda sean elásticas.
  - d. cuando la demanda sea inelástica y la oferta elástica.
7. Supongamos que Rosa, María y Susana compran el ultimo libro sobre economía aparecido en el mercado por 15 €. Rosa estaba dispuesta a pagar por él hasta 15 €, María 25 € y Susana 30. El excedente del consumidor de las tres sería
  - a. 15 €.
  - b. 30 €.
  - c. 45 €.
  - d. 90 €.
8. Si un país permite el comercio de un bien y el precio de ese bien en el mercado nacional sin comercio es menor que el precio internacional.
  - a. el país será exportador de ese bien.
  - b. el país será importador de ese bien.
  - c. el país no será nunca ni importador ni exportados de ese bien.
  - d. es necesaria información adicional sobre la demanda para determinar si el país será importador o exportador de se bien.
9. Un impuesto a un producto
  - a. aumenta el precio que los compradores pagan efectivamente y aumenta el precio que los vendedores reciben efectivamente.
  - b. aumenta el precio que los compradores pagan efectivamente y disminuye el precio que los vendedores reciben efectivamente.
  - c. disminuye el precio que los compradores pagan efectivamente y aumenta el precio que los vendedores reciben efectivamente.
  - d. disminuye el precio que los compradores pagan efectivamente y disminuye el precio que los vendedores reciben efectivamente.
10. Cuando se decide que los edificios históricos producen una externalidad positiva, los ayuntamientos deben de elegir entre
  - a. regular y controlar su demolición.
  - b. establecer incentivos y subvenciones para los propietarios que los restauren.
  - c. aumentar los impuestos a la propiedad en las zonas históricas.
  - d. tanto a como b son correctas.
11. Cuando un Mercado se caracteriza por una externalidad, el Gobierno puede corregir el fallo del mercado
  - a. puede corregir el fallo de mercado solo si la externalidad es positiva
  - b. puede corregir el fallo del mercado solo si la externalidad es negativa.
  - c. puede corregir el fallo de Mercado en el caso de existir externalidades positivas o negativas induciendo a los participantes en el Mercado a internalizar las externalidades..
  - d. no puede corregir las externalidades debido a la existencia de patentes.

12. Una puesta de sol espectacular desde una playa privada es
- un bien privado.
  - un bien público.
  - un bien no rival pero excluible.
  - rival pero no excluible.
13. En un mercado competitivo las decisiones de un simple comprador o vendedor
- tienen un impacto despreciable en el precio de mercado.
  - tienen un pequeño efecto sobre el nivel de producción pero finalmente cambian el precio final del producto.
  - causan un importante efecto sobre la producción y cambian el precio final del producto.
  - producen efectos adversos sobre los beneficios de más de una empresa en el mercado.
14. Supongamos que una empresa en un mercado competitivo reduce su producción un 20%. Como resultado el precio de su producto
- aumenta.
  - permanece sin cambios.
  - disminuye menos del 20 %.
  - disminuye más del 20 %.
15. Las patentes y los copyright son una gran fuente de
- monopolios naturales.
  - monopolios creados por el gobierno.
  - monopolios originados por los recursos.
  - resultado de la regulación antimonopolio.
16. El producto interior bruto, PIB sirve para medir dos cosas:
- El gasto total y el ahorro total de la económica.
  - el ingreso total y el gasto total de la nación en la producción de bienes y servicios.
  - el valor de los bienes y servicios producidos por la nación para sus ciudadanos y para el resto del mundo
  - Tenemos que saber de que tipo es el bien o servicio que esta en venta.
17. Si un Estado considera ilegal el juego o la prostitución, y los demás sectores productivos no varían entonces el PIB
- necesariamente disminuye.
  - necesariamente aumenta.
  - nada cambia porque la producción legal y la ilegal están incluidas en el PIB.
  - Nada cambia porque estas actividades nunca son incluidas en el PIB.
18. Una empresa italiana tiene un restaurant italiano en Estados Unidos. Los beneficios del restaurant italiano se incluyen en
- el Producto Nacional Bruto de Estados Unidos y en el Producto Nacional Bruto de Italia.
  - en el Producto Interior Bruto de estados Unidos y en el Producto Interior Bruto de Italia
  - en el Producto Interior Bruto de Estados Unidos y en el Producto Nacional Bruto de Italia.
  - en el Producto Nacional Bruto de estados Unidos y en el Producto Interior Bruto de Italia.

19. La *tasa de inflación* se define como el
- nivel de precios.
  - el cambio del nivel de precios de un periodo respecto al siguiente.
  - porcentaje de cambio del nivel de precios respecto al nivel de precios del periodo anterior.
  - el nivel de precios menos el nivel de precios del periodo anterior.
20. Si 2004 es el año base; entonces
- La tasa de inflación 2005 =  $\frac{\text{CPI in 2005} - \text{CPI in 2004}}{\text{CPI in 2004}} \times 100$ .
  - La tasa de inflación =  $\frac{\text{CPI in 2005} - \text{CPI in 2004}}{\text{CPI in 2005}} \times 100$ .
  - La tasa de inflación =  $\frac{\text{CPI in 2004} - \text{CPI in 2005}}{\text{CPI in 2004}} \times 100$ .
  - La tasa de inflación =  $\frac{\text{CPI in 2004} - \text{CPI in 2005}}{\text{CPI in 2005}} \times 100$ .
21. La renta de María excede a sus gastos. María es una
- ahorradora que demanda dinero del sistema financiero.
  - ahorradora que ofrece dinero al sistema financiero.
  - prestataria que demanda dinero del sistema financiero.
  - prestataria que ofrece dinero del sistema financiero.
22. Los bonos a largo plazo normalmente tienen
- menor riesgo que los bonos a corto plazo y pagan un interés mayor.
  - menor riesgo que los bonos a corto plazo y pagan un interés menor.
  - mas riesgo que los bonos a corto plazo y pagan un mayor interés.
  - mas riesgo que los bonos a corto plazo y pagan un menor interés.
23. En una economía cerrada el ahorro nacional es igual a
- la inversión.
  - la renta menos la suma del consume privado y las compras públicas.
  - el ahorro privado más el ahorro público.
  - las tres respuestas anteriores son correctas.
24. El tipo de interés nominal es del 6 % y el tipo de interés real el 2%. ¿Cuál es la inflación?
- 8 %
  - 4 %
  - 3 %
  - Ninguna de las respuestas anteriores es correcta.
25. Un estudiante universitario que no trabaja y que no esta buscando trabajo se cuenta como
- un no empleado que no forma parte de la población activa.
  - desempleado y población activa.
  - desempleado, y no miembro de la población activa.
  - empleado y miembro de la población activa.

26. Las personas que están desempleados porque están buscando un trabajo mejor se clasifican dentro del
- desempleo cíclico.
  - desempleo estructural.
  - desempleo friccional.
  - trabajadores desanimados.
27. Un seguro de desempleo más generoso que el actual podría
- aumentar el desempleo estructural.
  - aumentar el desempleo friccional.
  - disminuir el desempleo estructural.
  - disminuir el desempleo friccional.
28. Algo que la gente puede utilizar para transferir poder adquisitivo del presente al futuro se llama
- un medio de pago o de cambio.
  - una unidad de cuenta.
  - un depósito de valor.
  - ninguna de las respuestas anteriores es correcta.
29. Si una economía usa el oro como dinero, este dinero debería ser
- dinero mercancía pero no dinero fiduciario.
  - dinero fiduciario pero no dinero mercancía.
  - dinero mercancía y fiduciario a la vez.
  - ni dinero mercancía ni dinero fiduciario.
30. La elasticidad precio de la demanda mide
- la respuesta de los compradores a un cambio en el precio del bien.
  - la intensidad en el que se incrementa el número de compradores adicionales que entran en el mercado.
  - cuanto más demandaran los compradores cuando el precio del bien supuesto que el nivel de renta se mantenga.
  - el movimiento a lo largo de la curva de oferta cuando hay un cambio en la demanda.

## **Libro:** (solo para los que entregaron en tiempo y forma)

Relacionar los contenidos principales, con los principios básicos de la economía, a través de algún ejemplo relatado en el libro.