

EXAMEN DE “ECONOMÍA”
CONVOCATORIA ORDINARIA M.1

PRIMER CURSO

20 DE SEPTIEMBRE DE 2008

APELLIDOS:

NOMBRE:

GRUPO:

NORMAS PARA REALIZAR EL EXAMEN:

- 1.- No abra este cuadernillo hasta que se le indique.
- 2.- Indique el nombre y el grupo en el encabezado y el NIU y el modelo de examen en la hoja de corrección automática.
- 3.- La prueba no se puede desgrapar.
- 4.- No se corregirán pruebas escritas a lápiz ni a color rojo.
- 5.- Limítese al espacio que se le suministra.
- 6.- Marque en el test la única respuesta correcta en cada pregunta.
- 7.- Dispone de una hora y cuarenta minutos para realizar el examen.


PUNTUACIÓN:

Sobre un total de 100 puntos:


- Test: 30 preguntas Será necesario obtener 45 puntos para sumar el resto de las notas.
- pregunta correcta: 2,5 puntos;
- en blanco: 0 puntos;
- incorrecta: - 0.5 puntos.
- La teoría y la práctica puntuarán como máximo, 10 puntos cada parte.

TEORIA:

Arancel y Contingente: Concepto y efectos de su imposición sobre el Excedente Total

A large, empty rectangular box with a thin black border, intended for the student to write their theoretical response regarding the concepts and effects of tariffs and contingents on total surplus.

PIB: Concepto y relación de este indicador con el bienestar económico

A large, empty rectangular box with a thin black border, intended for the student to write their theoretical response regarding the concept of GDP and its relationship with economic welfare.

PRACTICA :

En base a lo estudiado durante el curso comentar la siguiente noticia del diario "El Público" del día 19 de enero de 2008 referidas a las medidas adoptadas por la Administración Americana para combatir la recesión anunciada por los analistas y situarlo en el contexto actual después de las últimas noticias de esta semana:

"Bajar los impuestos a individuos ya empresa para que tengan dinero en el bolsillo y consuman e inviertan más es la habitual reacción de las autoridades económicas cuando la actividad se viene abajo".

TEST

1. La economía es el estudio de:

- a. los métodos de producción.
- b. como la sociedad administrativa los recursos escasos.
- c. como las amas de casa deciden quien realiza las tareas.
- d. las relaciones entre empresas y gobierno.

2. La mano invisible actúa para promover el bienestar de la economía mediante:

- a. la intervención del gobierno.
- b. el proceso político.
- c. las personas que persiguen su propio interés
- d. altruismo.

3. Si en el país A se tarda en producir una unidad de bien X 3 horas y en producir una unidad de bien Y 1 hora; mientras que en el país B se tardan en producir los mismos bienes 1 y 3 horas respectivamente. Suponiendo que cada país tiene 600 horas de trabajo, ¿cuál será la producción total en caso de especialización?

- a. 300 unidades de X y 300 unidades de Y.
- b. 200 unidades de X y 200 unidades de Y.
- c. 600 unidades de X y 600 unidades de Y.
- d. 100 unidades de X y 100 unidades de Y.

4. Considere que el mercado de un bien normal está en equilibrio. Una disminución del coste por unidad de producto y un aumento simultáneo de la renta de los consumidores dará lugar a:

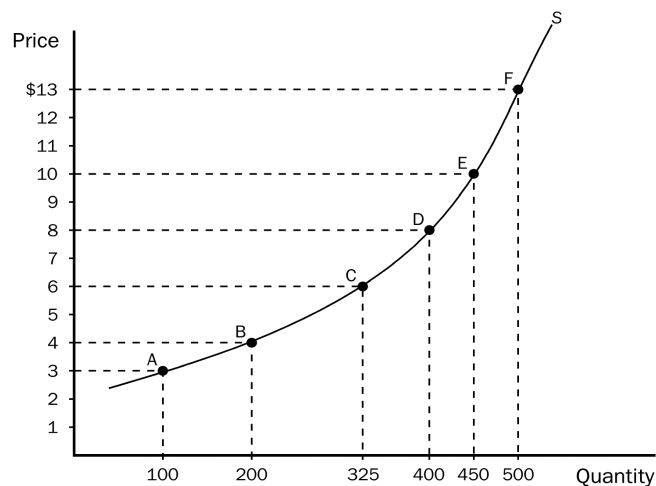
- a. Una disminución de la cantidad intercambiada.
- b. Un aumento del precio y de la cantidad.
- c. Un descenso del precio y un aumento de la cantidad.
- d. Aumentará la cantidad intercambiada en el equilibrio pero no podemos asegurar nada sobre el precio.

5. Si la elasticidad-precio de la demanda de un bien es 0,5 y el bien es inferior:

- a. la demanda es elástica y la elasticidad renta será menor que 1.
- b. la demanda es inelástica y la elasticidad renta tomará valores entre 0 y 1.
- c. la demanda es elástica y la elasticidad renta es menor que 0.
- d. la demanda es inelástica y la elasticidad renta es menor que 0.

- 6.. El precio mundial de una calculadora es 5.00 €. Singapur en un determinado momento permite comerciar con calculadoras. El precio domestico antes de la apertura de mercados era 4.00 €. Desde que Singapur permitió comerciar con calculadoras con otros países empezó a:
- importar calculadoras y el precio de una calculadora en Singapur aumento a 5€.
 - importar calculadoras y el precio de una calculadora en Singapur aumento a 4€.
 - exportar calculadoras y el precio de una calculadora en Singapur aumento a 5€
 - exportar calculadoras y el precio de una calculadora en Singapur permaneció a 4€.
7. En el grafico, usando el método del punto media, ¿cual es la elasticidad precio de la oferta entre los puntos D y E?

- 1.89
- 1.26
- 0.53
- 0.34



8. Si la elasticidad de la demanda con respecto al precio es 2, al aumentar el precio del bien un 2%, los ingresos de los productores:
- aumentarán
 - disminuirán
 - permanecerán constantes
 - alcanzarán su máximo
9. Un efecto del bienestar económico es que el precio de equilibrio del producto se considera el mejor precio por que:
- maximiza el ingreso total de las empresas y la cantidad de oferta de producto.
 - maximiza el bienestar combinado de compradores y vendedores.
 - minimiza los costes y maximiza el beneficio de los vendedores.
 - minimiza el nivel de bienestar para aquellos que viven por debajo del límite de pobreza.
10. Suponga que la elasticidad precio del bien “X” es inferior a la elasticidad precio del bien “Y”. ¿Sobre cual de los dos bienes establecería usted un impuesto para que la Perdida Irrecuperable de Eficiencia fuese más reducida?
- es indiferente ya que la PIE no depende de la elasticidad.
 - sobre los 2 en igual medida.
 - sobre el bien “X”.
 - sobre el bien “Y”

11. ¿Cuál de los ejemplos siguientes es una externalidad?

- a. el humo del tabaco que se permite en un restaurante.
- b. una vacuna que previene que un estudiante transmita la gripe a su compañero de cuarto.
- c. un bonito jardín de flores a la entrada de la oficina de correos.
- d. todos los ejemplos anteriores son correctos.

12. Los bienes no excluibles normalmente son:

- a. de mayor precio que los bienes excluibles.
- b. de mayor precio que los bienes rivales.
- c. con poca oferta.
- d. gratuitos.

13. Un parasito es una persona que:

- a. recibe el beneficio de un bien pero no paga por ello.
- b. puede producir bienes sin coste.
- c. solo comprará un producto en venta.
- d. se aprovecha de los vacíos legales para pagar menos impuestos.

14. ¿Cuál de las siguientes NO es una característica de un mercado perfectamente competitivo?

- a. Las empresas son precio aceptantes.
- b. Las empresas tienen dificultad para entrar en el mercado.
- c. En el mercado hay muchos vendedores.
- d. Los bienes ofrecidos a la venta son en gran medida iguales.

15. ¿Cuál de las siguientes características es necesaria para que exista un monopolio?

- i. la empresa es la única vendedora del producto.
- ii. el producto de la empresa no tiene sustitutivos.
- iii. la empresa genera un beneficio a largo plazo.
- iv. la empresa esta localizada en un pequeño mercado geográfico.

- a. (i) y (ii)
- b. (i) y (iii)
- c. (ii) y (iv)
- d. (i), y (ii), y (iii)

16. Uno de los cárteles más conocidos es:

- a. la Unión Europea.
- b. la Organización de Consumidores y Usuarios.
- c. la Organización de Países Exportadores de Petróleo.
- d. el INE.

17. No forman parte del PIB:

- a. los honorarios de los arquitectos.
- b. la venta de una avioneta usada.
- c. los bienes intermedios salvo las existencias.
- d. las respuestas b) y c) son correctas.

18. Si los precios respecto al año anterior, han incrementado y sin embargo el PIB nominal ha permanecido igual, podemos afirmar que:

- a. el PIB real no varía.
- b. el PIB real disminuye.
- c. el PIB real aumenta.
- d. no podemos pronunciarnos con la información disponible.

19. El Producto Interior Bruto es igual a:

- a. consumo (+) inversión (+) gasto público (+) exportaciones (+) importaciones.
- b. consumo (+) inversión (+) gasto público (+) importaciones (-) exportaciones.
- c. consumo (+) inversión (+) gasto público (+) exportaciones (-) importaciones.
- d. consumo (+) inversión (+) gasto público (+) exportaciones (-) transferencias netas del exterior.

20. El termino inflación se usa para designar una situación en la que:

- a. el nivel de general de precios de una economía es cada vez mayor.
- b. los ingresos de una economía van en aumento.
- c. en la bolsa las cotizaciones están aumentando.
- d. la economía crece rápidamente.

21. ¿Qué cesta de artículos se utiliza para calcular el índice de precios al consumo, IPC?

- a. una muestra aleatoria de todos los bienes y servicios producidos en la economía.
- b. los bienes y servicios que de acuerdo con las encuestas normalmente compra los consumidores.
- c. solo alimentos, ropa, transporte, ocio y educación.
- d. el menos y el mas caro de los bienes y servicios en cada categoría de los gastos del consumidor.

22. Si el índice de precios al consumo de un país en el año 1 es igual 150 y en el año 2 es igual a 180 la tasa de inflación será del:

- a. 2%.
- b. 20%.
- c. 16,66%.
- d. ninguna de las anteriores.

23. Megasoft quiere financiar la compra de nuevos equipos pero tiene unos fondos propios limitados. Megasoft
- demandará fondos prestables comprando bonos u obligaciones.
 - demandará fondos prestables vendiendo bonos u obligaciones.
 - ofrecerá fondos prestables comprando bonos u obligaciones.
 - ofrecerá fondos prestables vendiendo bonos u obligaciones.
24. ¿Cuál de ellas es un intermediario financiero?
- los bancos y los fondos de inversión.
 - los bancos pero no los fondos de inversión.
 - los fondos de inversión pero no los bancos.
 - ni los bancos ni los fondos de inversión.
25. El tipo de interés nominal es el:
- tipo de interés corregido por la inflación.
 - el tipo de interés aplicado por los bancos.
 - el tipo de interés de amortización de un préstamo.
 - el coste real del préstamo para el prestario.
26. La población activa es:
- el número de personas que están empleadas.
 - el número de personas que están desempleadas.
 - el número de personas empleadas y desempleadas.
 - la población adulta.
27. Suponga un país con una población adulta de unos 50 millones, el porcentaje de población activa es del 60% y el de paro del 5%. ¿Cuál será el número empleados y el de población activa?
- 27.5 millones, 30 millones.
 - 28.5 millones, 30 millones.
 - 30 millones, 31.5 millones.
 - 30 millones, 32.5 millones.
28. El establecimiento de un salario mínimo inferior al de equilibrio:
- no producirá ningún efecto.
 - generara desempleo estructural.
 - generara desempleo friccionad.
 - determinara que la cantidad ofrecida de trabajo sea superior a la demandada.

29. La liquidez se refiere a:

- a. la facilidad con la que un activo se convierte en un medio de pago o de cambio.
- b. una medida del valor intrínseco del dinero.
- c. la idoneidad de un activo para servir como reserva del valor.
- d. cuanto tiempo una moneda circula en un determinado año.

30. ¿Cuál de las siguientes funciones no cumple el dinero en una economía?

- a. bien de consumo.
- b. depósito de valor.
- c. unidad de cambio.
- d. unidad de cuenta.